

XLV OLIMPIADA GEOGRAFICZNA

Zawody II stopnia pisemne – podejście 3

Zadanie 22

Na podstawie poniższych opisów rozpoznaj wyspy na Morzu Śródziemnym. Uzupełnij tabelę, wpisując do niej nazwy wysp, a także litery (A-S), którymi oznaczono położenie tych wysp na mapie (załącznik 1).

| Opis wyspy | Nazwa wyspy | Litera na mapie |
|--|-------------|-----------------|
| Jedna z wysp archipelagu Wysp Toskańskich. Miejsce zesłania Napoleona Bonapartego w latach 1814-1815. | | |
| Na wyspie tej znajduje się najwyższy wulkan Europy. | | |
| Największa pod względem powierzchni wyspa archipelagu Wysp Pelagijskich. Leży na jednym ze szlaków migracji z Afryki do Europy. | | |
| Trzecia pod względem wielkości powierzchni wyspa w archipelagu Balearów, oddalona o około 75 km od wybrzeża Półwyspu Iberyjskiego. | | |
| Wyspa zaliczana do archipelagu Dodekanez. Miejsce lokalizacji jednego z siedmiu cudów świata starożytnego. | | |

Zadanie 23

Na mapie (załącznik 1) wrysowano trzy odcinki (I, II, III) przecinające Morze Śródziemne. Profile topograficzne sporządzone dla tych odcinków zamieszczono w załączniku 2.

A. W wykropkowane miejsca na profilach wpisz nazwy własne mórz.

Uwaga! Nie używaj nazwy Morze Śródziemne.

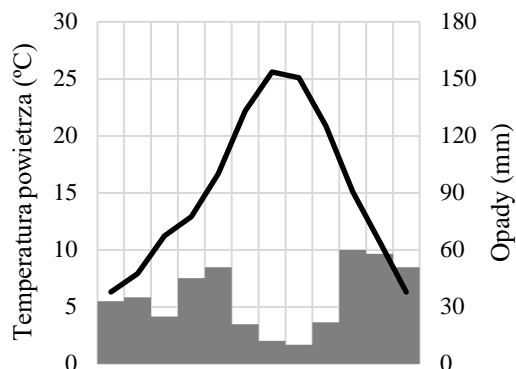
B. Na podstawie opisów w poniższej tabeli oraz lokalizacji na mapie i profilach topograficznych rozpoznaj i wpisz do tabeli nazwy czterech nadmorskich miast (a-d).

| Litera na profilu | Opis miasta | Nazwa miasta |
|-------------------|---|--------------|
| a | Od czasów starożytnych pełni funkcję portu dla oddalonego od niego o 12 km miasta. Obecnie jeden z największych portów kontenerowych na Morzu Śródziemnym i jeden z największych w Europie portów pasażerskich. | |
| b | Stolica i najludniejsze miasto państwa. W położonej 45 km na zachód miejscowości Zawiya znajduje się duża rafineria i port załadunkowy ropy naftowej i produktów naftowych. | |
| c | Port morski wyspecjalizowany w wyładunku paliw płynnych. W latach 1945-1954 miasto wraz z najbliższą okolicą stanowiło przedmiot sporu międzynarodowego z udziałem Jugosławii. | |
| d | Duże miasto (około 600 tys. mieszkańców), stolica Ligurii. Wielki port morski oraz jeden z pierwszych ośrodków bankowości w Europie. | |

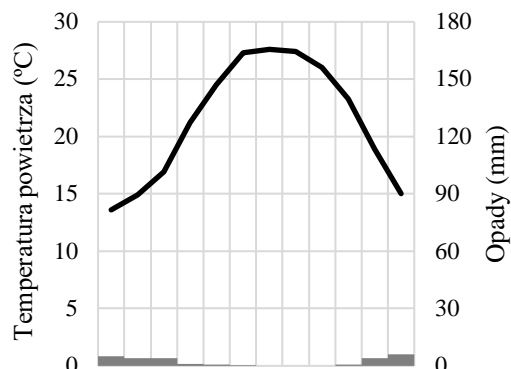
Zadanie 24

Poniżej klimatogramów wpisz nazwy odpowiednich miast. Odpowiedzi wybierz spośród poniższych.

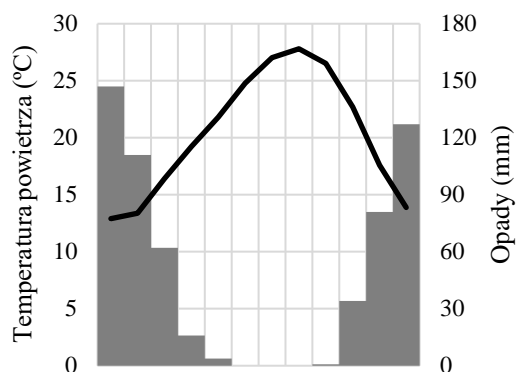
Kair, Madryt, Paryż, Tel Awiw-Jafa, Tirana



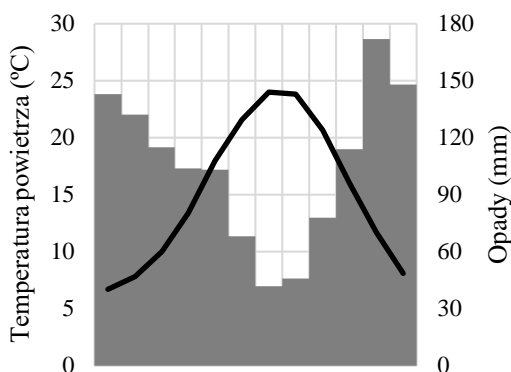
śr. roczna temp.: 15,0°C, roczna suma opadów: 421 mm



śr. roczna temp.: 21,4°C, roczna suma opadów: 25 mm



śr. roczna temp.: 20,3°C, roczna suma opadów: 582 mm



śr. roczna temp.: 15,2°C, roczna suma opadów: 1266 mm

Zadanie 25

Uzupełnij tabelę, wpisując nazwy odpowiednich państw. Odpowiedzi wybierz spośród poniższych.

Chorwacja, Francja, Tunezja, Turcja, Włochy

| Państwo | Liczba odwiedzin przez turystów zagranicznych (mln, 2016) | Zmiana liczby odwiedzin przez turystów zagranicznych (2010-2016) | Liczba przyjazdów turystów z Polski (tys., 2016) | Liczba pasażerów w największym porcie lotniczym (mln, 2017) |
|---------|---|--|--|---|
| | 82,6 | +6,4% | 367 | 69,5 |
| | 52,4 | +20,0% | 936 | 41,0 |
| | 39,5 | +25,7% | 188 | 63,9 |
| | 13,8 | +51,6% | 661 | 2,8 |
| | 5,7 | -26,9% | 39 | 5,7 |

Zadanie 26

W tabelach przedstawiono największych na świecie producentów wybranych produktów spożywczych (dane z lat 2014-2016). Do nagłówka każdej tabeli wpisz nazwę odpowiedniego produktu. Odpowiedzi wybierz spośród poniższych.

Uwaga! Dane we wszystkich tabelach są wyrażone w tysiącach ton.

daktyle, jabłka, mięso wieprzowe, owoce kiwi, oliwki, sery krowie, wino

| | |
|----------------|-------|
| | |
| 1. Hiszpania | 6 560 |
| 2. Grecja | 2 343 |
| 3. Włochy | 2 092 |
| 4. Turcja | 1 730 |
| 5. Maroko | 1 416 |
| 6. Syria | 899 |
| 7. Tunezja | 700 |
| 8. Algieria | 697 |
| 9. Egipt | 694 |
| 10. Portugalia | 618 |

| | |
|------------|--------|
| | |
| 1. Chiny | 44 448 |
| 2. USA | 4 649 |
| 3. Polska | 3 604 |
| 4. Turcja | 2 926 |
| 5. Indie | 2 872 |
| 6. Iran | 2 799 |
| 7. Włochy | 2 456 |
| 8. Rosja | 1 844 |
| 9. Francja | 1 820 |
| 10. Chile | 1 759 |

| | |
|--------------|-------|
| | |
| 1. Włochy | 4 797 |
| 2. Hiszpania | 4 608 |
| 3. Francja | 4 293 |
| 4. USA | 3 300 |
| 4. Chiny | 1 700 |
| 6. Argentyna | 1 498 |
| 7. Chile | 1 214 |
| 8. Australia | 1 186 |
| 9. RPA | 1 146 |
| 10. Niemcy | 920 |

| | |
|---------------------|-------|
| | |
| 1. USA | 5 585 |
| 2. Niemcy | 2 736 |
| 3. Francja | 1 778 |
| 4. Włochy | 1 176 |
| 5. Holandia | 772 |
| 6. Polska | 744 |
| 7. Rosja | 664 |
| 8. Czechy | 568 |
| 9. Argentyna | 559 |
| 10. Wielka Brytania | 410 |

| | |
|---------------------|-------|
| | |
| 1. Egipt | 1 695 |
| 2. Iran | 1 066 |
| 3. Algieria | 1 030 |
| 4. Arabia Saudyjska | 966 |
| 5. ZEA | 672 |
| 6. Irak | 615 |
| 7. Pakistan | 495 |
| 8. Sudan | 439 |
| 9. Oman | 349 |
| 10. Tunezja | 241 |

| | |
|--------------|--------|
| | |
| 1. Chiny | 54 130 |
| 2. USA | 11 320 |
| 3. Niemcy | 5 590 |
| 4. Hiszpania | 3 947 |
| 5. Wietnam | 3 665 |
| 6. Brazylia | 3 514 |
| 7. Rosja | 3 368 |
| 8. Francja | 2 185 |
| 9. Kanada | 2 048 |
| 10. Polska | 2 009 |

Zadanie 27

Wpisz nazwy państw z dostępem do Morza Śródziemnego, które spełniają następujące warunki:

A. są monarchiami:

a) b) c) d)

B. powstały w wyniku rozpadu Jugosławii:

a) b) c) d)

C. są zaliczane do państw Maghrebu (Arabskiej Unii Maghrebu):

a) b) c) d)

Zadanie 28

Przeczytaj uważnie poniższe zdania i uzupełnij brakujące fragmenty, podkreślając jedną spośród czterech propozycji przedstawionych w nawiasach.

- A. W niższych partiach gór na obrzeżu Morza Śródziemnego naturalną roślinność stanowiły głównie lasy (*bukspanowe / dębowe / jodłowe / laurowe*).
- B. Najwyższe piętro leśne w górach na Bliskim Wschodzie i w Atlasie stanowiły lasy (*bukowe / cedrowe / świerkowe / wrzoścowe*).
- C. Na stromych stokach i na obszarach zdegradowanych rosną kolczaste zarośla (*chapparalu / knysna / makii / tamaryszku*).
- D. Współcześnie duże i coraz to większe powierzchnie zajmują sztuczne nasadzenia – lasy (*araukariowe / cisowe / eukaliptusowe / jodły kanadyjskiej*).

Zadanie 29

Na podstawie opisów rozpoznaj i wpisz w wykropkowane miejsca nazwy drzew i zwierząt.

- A. Drzewo o niskim pniu i rozłożystych koronach, na które chętnie wspinają się kozy. Jego drewno jest bardzo twarde, zaś z nasion pozyskuje się olej jadalny, który jest stosowany również w kosmetyce. Rośnie w południowym Maroku.
.....
- B. Okazałe drzewo (największe pomierzone okazy osiągały 40 m wysokości i aż 56 m obwodu pnia), które zostało rozpowszechnione w basenie Morza Śródziemnego w starożytności. Jego owoce bogate w skrobię i cukry są spożywane po upieczeniu (sprzedawane na ulicach Paryża) lub przygotowaniu, sproszkowane na mąkę służyły do wypieku chleba.
.....
- C. Duże drzewo o niskim pniu i luźnej, szerokiej koronie pochodzące z południowej Europy i południowej Azji. Owoce ukryte w twardych zdrewniałych łupinach zawierają aż 55% tłuszczów, 17% białka i 13% cukrów.
.....
- D. Duże zwierzę, licznie żyjące w czasach starożytnych w północnej Afryce (ich stada pustoszyły pola uprawne). Dostarczały cennego surowca wykorzystywanego w zdobnictwie pałaców i świątyń. Ostatnie osobniki żyjące w północnej Afryce wyginęły u schyłku starożytności.
.....
- E. Duży drapieżnik, który w starożytności licznie żył w basenie Morza Śródziemnego, w tym w Europie. Stada tych zwierząt stanowiły duże zagrożenie (np. w XVII wieku sułtan Maroka kazał podpalać lasy, by przepędzić te zwierzęta i umożliwić kupcom dostęp do Rabatu). Ostatni znany przedstawiciel dziko żyjącej populacji w basenie Morza Śródziemnego został zabity w połowie XX wieku.
.....