

XXXIX OLIMPIADA GEOGRAFICZNA
Zawody III stopnia pisemne – podejście 3

Zadanie 15.

Na mapie strzałkami zaznaczono miejsca, do których przybywali odkrywcy Ameryki Północnej. Wpisz do tabeli:

a) czas przybycia odkrywców – odpowiedzi wybierz spośród poniższych:

lat temu (w przybliżeniu): 200, 400, 480, 520, 620, 1 000, 12 000, 40 000

b) odkrywców – odpowiedzi wybierz spośród poniższych:

Arabowie, Anglicy i Holendrzy, Azjaci, Francuzi, Hiszpanie, Rosjanie, Wikingowie



Oznaczenie strzałek	Czas przybycia (lat temu)	Odkrywcy
1		
2		
3		
4		
5		

Zadanie 16.

Nazwy stanów w USA wywodzą się z różnych języków – ludności miejscowej i napływowej. Określ pochodzenie wymienionych nazw stanów. Odpowiedzi wybierz spośród poniższych.

angielskie, francuskie, hiszpańskie, holenderskie, indiańskie

Kolorado –

Nevada –

Luizjana –

Rhode Island –

Maryland –

Utah –

Massachusetts –

Vermont –

Missouri –

Wirginia –

Zadanie 17.

Podkreśl poprawne odpowiedzi w nawiasach.

Przymusowa imigracja do Ameryki spowodowana handlem niewolnikami rozpoczęła się w (XV / XVII / XVIII) wieku. Niewolnicy pochodzili głównie z (Afryki Północnej / Afryki Zachodniej / Azji Wschodniej). Szacuje się, że do obu Ameryk przywieziono łącznie (0,5-1 mln / 12-25 mln / 75-100 mln) niewolników. W Ameryce Północnej trafiali oni głównie na obszar dzisiejszego stanu (Illinois / Massachusetts / Wirginia), skąd kierowani byli przede wszystkim do pracy (na plantacjach bawełny / przy budowie linii kolejowych / w kopalniach węgla). Imigranci wypierali autochtoniczną ludność Ameryki należącą do rasy (białej / czerwonej / żółtej). Konsekwencją skrzyżowania niewolników z autochtoniczną ludnością Ameryki są (Innuici / Metysi / Mulaci / Zambosi). Brak porozumienia w sprawie zniesienia niewolnictwa w Stanach Zjednoczonych Ameryki, było jedną z przyczyn, która doprowadziła do (Wojny o Niepodległość / Wojny Secesyjnej / Wielkiej Wojny Ojczyźnianej / Wojny Trzydziestoletniej). Do dziś potomkowie niewolników stanowią znaczący procent mieszkańców niektórych stanów USA. Najwięcej – 37% (2011 r.) – zamieszkuje stan (Kalifornia / Missisipi / Nowy Jork / Teksas).

Zadanie 18.

Wśród imigrantów do USA przez cały XIX w. oraz I połowę XX w. zdecydowanie przeważali Europejczycy. Obecnie dominującą grupą imigrantów są mieszkańcy Ameryki Łacińskiej, zwłaszcza Meksyku i Kuby. Podaj trzy główne przyczyny zmiany kierunku migracji do USA w II połowie XX w.


- 1)
- 2)
- 3)

Zadanie 19.

W wykropkowane miejsca wpisz litery (A, B, C lub D), którymi na diagramach oznaczono Polskę i USA.

Uwaga! Dane na diagramach przedstawiono z dokładnością $\pm 1\%$.

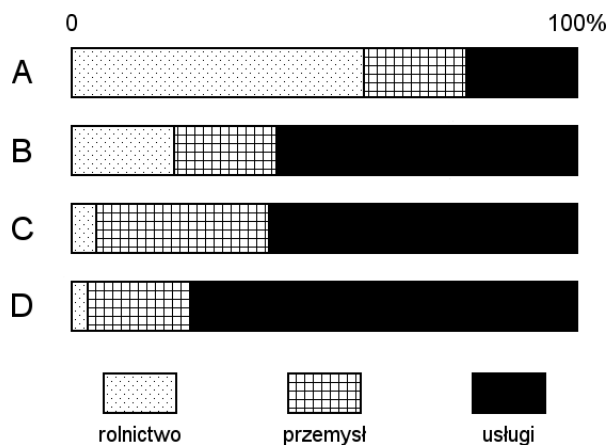
STRUKTURA PRODUKCJI ENERGII ELEKTRYCZNEJ



POLSKA –

USA –


STRUKTURA ZATRUDNIENIA



POLSKA –

USA –

STRUKTURA UŻYTKOWANIA GRUNTÓW



POLSKA –

USA –

Zadanie 20.

Dla każdego z obszarów wymienionych w tabeli podaj dwa zagrożenia naturalne dla budowy i eksploatacji dróg i linii kolejowych, charakterystyczne dla tego obszaru. Określ możliwe konsekwencje oddziaływania podanych zagrożeń na te szlaki komunikacyjne.

Obszar	Naturalne zagrożenie		Konsekwencje
Jukon	1		
	2		
Kalifornia	1		
	2		
Luizjana	1		
	2		