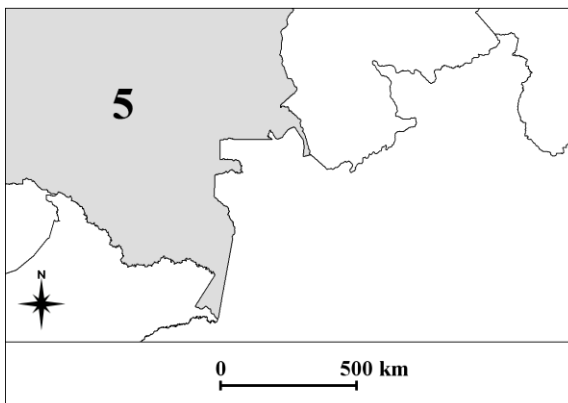
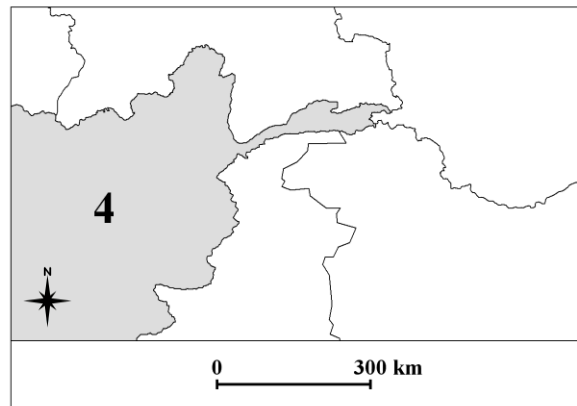
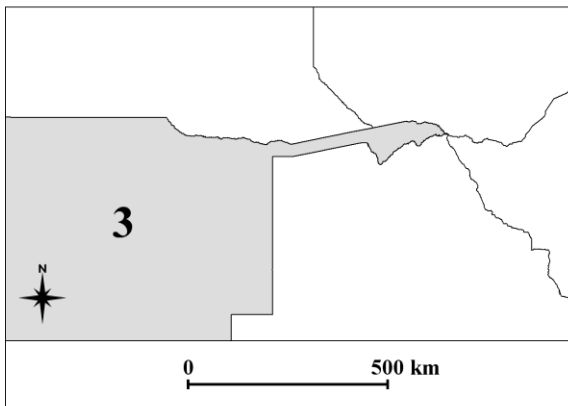
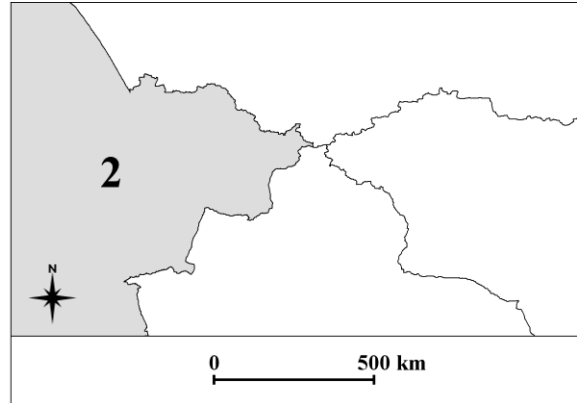
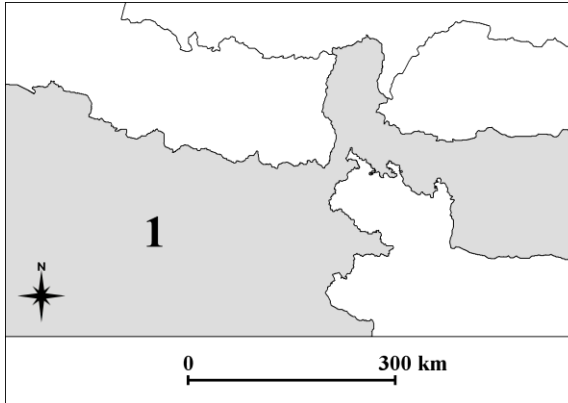


XXXVIII OLIMPIADA GEOGRAFICZNA
Zawody II stopnia pisemne – podejście 1

Zadanie 1.

Podaj nazwy państw oznaczonych cyframi 1-5.

Uwaga! Na każdej z map przedstawiono wyłącznie lądy.



- 1 – Indie
- 2 – Kazachstan
- 3 – Namibia
- 4 – Afganistan
- 5 – Kolumbia

Zadanie 2.

A. Podaj nazwy dwóch państw, których flagę narodową stanowi biały krzyż na czerwonym tle.

Dania, Szwajcaria

B. Flagi narodowe tylko dwóch państw na świecie mają kształt kwadratu. Podaj nazwy tych państw.

Szwajcaria, Watykan

C. Flaga narodowa tylko jednego państwa na świecie nie jest czworokątem. Podaj nazwę tego państwa.

Nepal

D. Podaj nazwę państwa, na którego fladze narodowej znajduje się wizerunek cedru.

Liban

E. Podaj nazwę państwa, na którego fladze narodowej znajduje się wizerunek rajskiego ptaka.

Papua-Nowa Gwinea

F. Podaj nazwę państwa, na którego fladze narodowej znajduje się wizerunek astrolabium – przyrządu astronomicznego używanego do określania położenia geograficznego. Zamieszczenie tego wizerunku na fladze miało na celu podkreślenie silnego związku historii państwa z dalekimi wyprawami morskimi.

Portugalia

G. Podaj nazwy dwóch państw, na których flagach narodowych znajduje się wizerunek Krzyża Południa (jest 5 takich państw).

Australia, Brazylia, Papua-Nowa Gwinea, Samoa, Nowa Zelandia

Zadanie 3.

A. Spośród poniższych nazw państw podkreśl te, w których oficjalną jednostką monetarną jest euro.

Uwaga! Za udzielenie złych odpowiedzi będą przyznawane punkty ujemne.

Czechy, Bułgaria, Czarnogóra, Dania, Finlandia, Irlandia, Islandia,

Litwa, Łotwa, Norwegia, Słowacja, Słowenia, Szwecja, Węgry

B. Nazwy jednostek monetarnych w wielu państwach na świecie są jednakowe. Przykładowo, dolar jest oficjalną walutą w co najmniej 30 państwach. Podaj nazwy oficjalnych jednostek monetarnych stosowanych w niżej wymienionych państwach.

a) Algieria, Bahrajn, Irak, Jordania, Kuwejt, Libia, Macedonia, Serbia, Tunezja – **dinar**

b) Argentyna, Chile, Dominikana, Filipiny, Kolumbia, Kuba, Meksyk, Urugwaj – **peso**

c) Benin, Burkina Faso, Burundi, Czad, D. R. Kongo, Dżibuti, Gabon, Gwinea, Gwinea Bissau, Gwinea Równikowa, Kamerun, Kongo, Komory, Liechtenstein, Mali, Niger, Republika Środkowoafrykańska, Ruanda, Senegal, Togo, Wybrzeże Kości Słoniowej – **frank**

d) Egipt, Sudan, Syria – **funt**

e) Indonezja, Malediwy, Mauritius, Nepal, Pakistan, Seszele, Sri Lanka – **rupia**

Zadanie 4.

- A. Król Bhumibol Adulyadej to obecnie najdłużej urzędujący przywódca państwa na świecie (od 1946 r.). Podkreśl nazwę państwa, w którym sprawuje on rządy.
- a) Brunei
 - b) Omanie
 - c) Suazi
 - d) Tajlandii**
 - e) Tonga
- B. Królowa Elżbieta II to obecnie drugi w kolejności najdłużej urzędujący przywódca państwa na świecie (od 1952 r.). Oprócz godności monarchy brytyjskiego jest również uznawana za władcę w 15 innych państwach, w tym w jednym z niżej wymienionych. Podkreśl nazwę tego państwa.
- a) Indie
 - b) Irlandia
 - c) Nowa Zelandia**
 - d) Nigeria
 - e) Republika Południowej Afryki
- C. Podkreśl imię i nazwisko osoby, która obecnie pełni funkcję Sekretarza Generalnego ONZ.
- a) Kofi Annan
 - b) Ban Ki-moon**
 - c) Romano Prodi
 - d) Anders Fogh Rasmussen
 - e) José Zapatero
- D. Podkreśl imię i nazwisko osoby, która obecnie pełni funkcję przewodniczącego Komisji Europejskiej.
- a) Catherine Ashton
 - b) José Barroso**
 - c) Jerzy Buzek
 - d) David Cameron
 - e) Herman van Rompuy
- E. Podkreśl nazwę państwa, w którym funkcję jego głowy pełni 3-osobowe prezydium, złożone z przedstawicieli trzech najliczniejszych grup etnicznych zamieszkujących to państwo.
- a) Belgia
 - b) Bośnia i Hercegowina**
 - c) Cypr
 - d) Łotwa
 - e) Szwajcaria

Zadanie 5.

A. Podaj nazwy 3 państw, które wraz z Polską wchodzi w skład Grupy Wyszehradzkiej:

- (1) **Czechy** (2) **Słowacja** (3) **Węgry**

B. Podaj nazwy 2 państw, które wraz z Polską wchodzi w skład Trójkąta Weimarskiego:

- (1) **Francja** (2) **Niemcy**

Zadanie 6.

Na podstawie opisów rozpoznaj miasta-stolice państw. Zaznacz czerwonymi punktami ich położenie na mapie. Podpisz miasta zaznaczone na mapie.

- A. Wedle legendy miasto to zostało założone na siedmiu wzgórzach w roku 753 p.n.e. Charakterystyczny układ starożytnych dróg zbiegających się w tym mieście jest widoczny w układzie komunikacyjnym państwa do czasów współczesnych.

Miasto: **Rzym**

- B. Miasto położone na lądzie stałym i 14 wyspach, połączonych 53 mostami. Siedziba rządu, parlamentu oraz monarchy. Miejsce wręczania prestiżowych nagród naukowych. Rokrocznie w pobliżu budynku parlamentu odbywają się zawody Pucharu Świata w biegach narciarskich.

Miasto: **Sztokholm**

- C. Miasto, które w dużej części zostało zniszczone podczas działań wojennych w trakcie II wojny światowej. W mieście tym znajduje się muzeum biograficzne wybitnego kompozytora i pianisty okresu romantyzmu. W bezpośrednim sąsiedztwie miasta znajduje się park narodowy, którego charakterystycznym elementem krajobrazu są bory i bory mieszane na wydmach śródlądowych. W parku żyją m. in. rysie i łosie.

Miasto: **Warszawa**

- D. Miasto leżące nad drugą pod względem długości rzeką Europy. W mieście znajduje się siedziba OPEC oraz OBWE. Przegrana bitwa w pobliżu tego miasta przerwała pochód armii Imperium Osmańskiego przez Europę.

Miasto: **Wiedeń**

- E. Miasto położone na miejscu rzymskiej osady o nazwie *Vicianum*. Stolica republiki, która jednostronnie ogłosiła niepodległość 17 lutego 2008 r. i jest uznawana przez kilkadziesiąt państw, w tym Polskę. Średnia roczna temperatura powietrza w tym mieście wynosi 15,8°C.

Miasto: **Prisztina**

