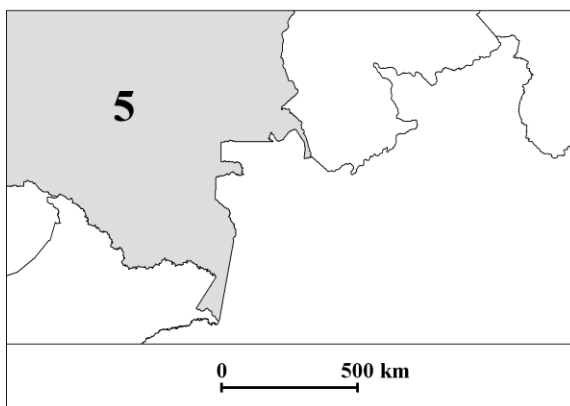
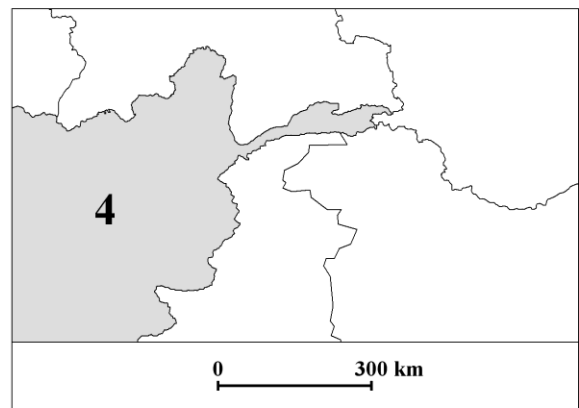
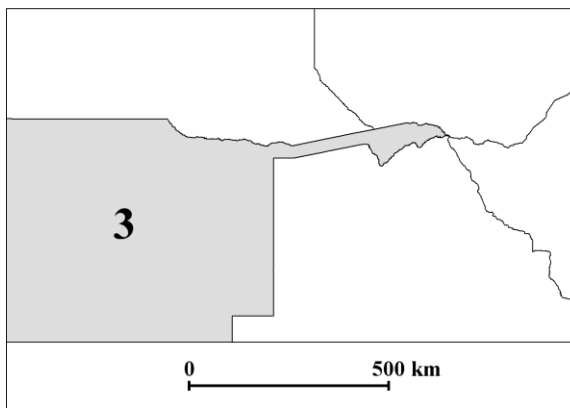
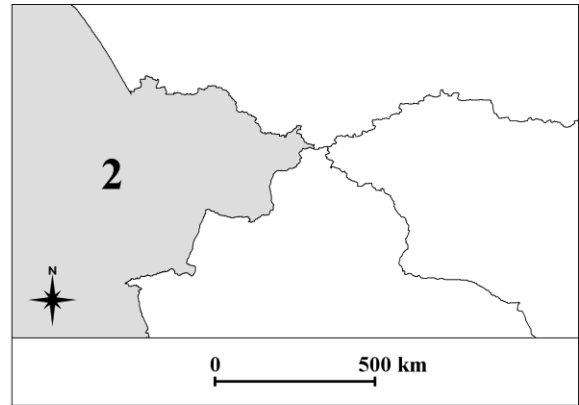
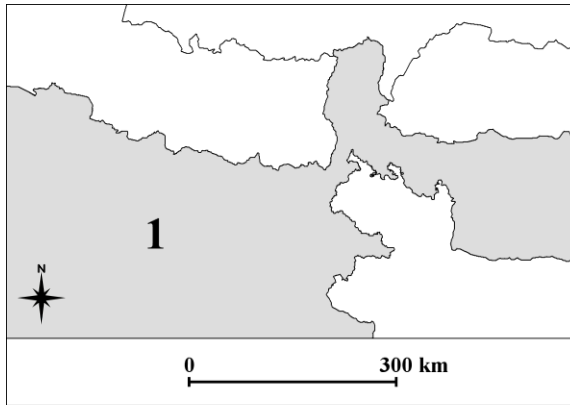


XXXVIII OLIMPIADA GEOGRAFICZNA
Zawody II stopnia pisemne – podejście 1

Zadanie 1.

Podaj nazwy państw oznaczonych cyframi 1-5.

Uwaga! Na każdej z map przedstawiono wyłącznie lądy.



Zadanie 2.

- A. Podaj nazwy dwóch państw, których flagę narodową stanowi biały krzyż na czerwonym tle.
.....
- B. Flagi narodowe tylko dwóch państw na świecie mają kształt kwadratu. Podaj nazwy tych państw.
.....
- C. Flaga narodowa tylko jednego państwa na świecie nie jest czworokątem. Podaj nazwę tego państwa.
.....
- D. Podaj nazwę państwa, na którego fladze narodowej znajduje się wizerunek cedru.
.....
- E. Podaj nazwę państwa, na którego fladze narodowej znajduje się wizerunek rajskiego ptaka.
.....
- F. Podaj nazwę państwa, na którego fladze narodowej znajduje się wizerunek astrolabium – przyrządu astronomicznego używanego do określania położenia geograficznego. Zamieszczenie tego wizerunku na fladze miało na celu podkreślenie silnego związku historii państwa z dalekimi wyprawami morskimi.
.....
- G. Podaj nazwy dwóch państw, na których flagach narodowych znajduje się wizerunek Krzyża Południa (jest 5 takich państw).
.....

Zadanie 3.

- A. Spośród poniższych nazw państw podkreśl te, w których oficjalną jednostką monetarną jest euro.

Uwaga! Za udzielenie złych odpowiedzi będą przyznawane punkty ujemne.

Czechy, Bułgaria, Czarnogóra, Dania, Finlandia, Irlandia, Islandia,

Litwa, Łotwa, Norwegia, Słowacja, Słowenia, Szwecja, Węgry

- B. Nazwy jednostek monetarnych w wielu państwach na świecie są jednakowe. Przykładowo, dolar jest oficjalną walutą w co najmniej 30 państwach. Podaj nazwy oficjalnych jednostek monetarnych stosowanych w niżej wymienionych państwach.

a) Algieria, Bahrajn, Irak, Jordania, Kuwejt, Libia, Macedonia, Serbia, Tunezja –

b) Argentyna, Chile, Dominikana, Filipiny, Kolumbia, Kuba, Meksyk, Urugwaj –

c) Benin, Burkina Faso, Burundi, Czad, D. R. Kongo, Dżibuti, Gabon, Gwinea, Gwinea Bissau, Gwinea Równikowa, Kamerun, Kongo, Komory, Liechtenstein, Mali, Niger, Republika Środkowoafrykańska, Ruanda, Senegal, Togo, Wybrzeże Kości Słoniowej –

d) Egipt, Sudan, Syria –

e) Indonezja, Malediwy, Mauritius, Nepal, Pakistan, Seszele, Sri Lanka –

Zadanie 4.

- A. Król Bhumibol Adulyadej to obecnie najdłużej urzędujący przywódca państwa na świecie (od 1946 r.). Podkreśl nazwę państwa, w którym sprawuje on rządy.
- a) Brunei
 - b) Omanie
 - c) Suazi
 - d) Tajlandii
 - e) Tonga
- B. Królowa Elżbieta II to obecnie drugi w kolejności najdłużej urzędujący przywódca państwa na świecie (od 1952 r.). Oprócz godności monarchy brytyjskiego jest również uznawana za władcę w 15 innych państwach, w tym w jednym z niżej wymienionych. Podkreśl nazwę tego państwa.
- a) Indie
 - b) Irlandia
 - c) Nowa Zelandia
 - d) Nigeria
 - e) Republika Południowej Afryki
- C. Podkreśl imię i nazwisko osoby, która obecnie pełni funkcję Sekretarza Generalnego ONZ.
- a) Kofi Annan
 - b) Ban Ki-moon
 - c) Romano Prodi
 - d) Anders Fogh Rasmussen
 - e) José Zapatero
- D. Podkreśl imię i nazwisko osoby, która obecnie pełni funkcję przewodniczącego Komisji Europejskiej.
- a) Catherine Ashton
 - b) José Barroso
 - c) Jerzy Buzek
 - d) David Cameron
 - e) Herman van Rompuy
- E. Podkreśl nazwę państwa, w którym funkcję jego głowy pełni 3-osobowe prezydium, złożone z przedstawicieli trzech najliczniejszych grup etnicznych zamieszkujących to państwo.
- a) Belgia
 - b) Bośnia i Hercegowina
 - c) Cypr
 - d) Łotwa
 - e) Szwajcaria

Zadanie 5.

A. Podaj nazwy 3 państw, które wraz z Polską wchodzi w skład Grupy Wyszechradskiej:

(1) (2) (3)

B. Podaj nazwy 2 państw, które wraz z Polską wchodzi w skład Trójkąta Weimarskiego:

(1) (2)

Zadanie 6.

Na podstawie opisów rozpoznaj miasta-stolice państw. Zaznacz czerwonymi punktami ich położenie na mapie. Podpisz miasta zaznaczone na mapie.

A. Wedle legendy miasto to zostało założone na siedmiu wzgórzach w roku 753 p.n.e. Charakterystyczny układ starożytnych dróg zbiegających się w tym mieście jest widoczny w układzie komunikacyjnym państwa do czasów współczesnych.

Miasto:

B. Miasto położone na lądzie stałym i 14 wyspach, połączonych 53 mostami. Siedziba rządu, parlamentu oraz monarchy. Miejsce wręczania prestiżowych nagród naukowych. Rokrocznie w pobliżu budynku parlamentu odbywają się zawody Pucharu Świata w biegach narciarskich.

Miasto:

C. Miasto, które w dużej części zostało zniszczone podczas działań wojennych w trakcie II wojny światowej. W mieście tym znajduje się muzeum biograficzne wybitnego kompozytora i pianisty okresu romantyzmu. W bezpośrednim sąsiedztwie miasta znajduje się park narodowy, którego charakterystycznym elementem krajobrazu są bory i bory mieszane na wydmach śródlądowych. W parku żyją m. in. rysie i łosie.

Miasto:

D. Miasto leżące nad drugą pod względem długości rzeką Europy. W mieście znajduje się siedziba OPEC oraz OBWE. Przegrana bitwa w pobliżu tego miasta przerwała pochód armii Imperium Osmańskiego przez Europę.

Miasto:

E. Miasto położone na miejscu rzymskiej osady o nazwie *Vicianum*. Stolica republiki, która jednostronnie ogłosiła niepodległość 17 lutego 2008 r. i jest uznawana przez kilkadziesiąt państw, w tym Polskę. Średnia roczna temperatura powietrza w tym mieście wynosi 15,8°C.

Miasto:

