

XXXV OLIMPIADA GEOGRAFICZNA

Zawody III stopnia pisemne – podejście 1

UWAGA! *Przed przystąpieniem do pracy przeczytaj wszystkie zadania.*

LOKALIZACJA KOMPLEKSU SPORTOWEGO

Jedno z dużych polskich miast powiatowych liczące 150 tys. mieszkańców (plan miasta na stronie 6) postanowiło zbudować kompleks sportowy obejmujący stadion piłkarski, halę sportową, basen oraz korty tenisowe. Rozważane są cztery lokalizacje oznaczone na planie literami A, B, C i D. Jako przedstawiciel firmy doradczej masz za zadanie pomóc władzom miejskim w wyborze najlepszej lokalizacji.

OPIS INWESTYCJI

- Kompleks sportowy ze stadionem piłkarskim, halą sportową, basenem 50-metrowym, dwoma kortami tenisowymi. Ma spełniać wszelkie wymogi międzynarodowe i być areną wydarzeń sportowych o zasięgu krajowym i międzynarodowym.
- Liczba miejsc siedzących na stadionie: 35 000, wielkość działki: 50 ha
- Liczba zatrudnionych do obsługi kompleksu: 125 osób, inwestor: miasto

Zadanie 1.

A.

Do poniższej tabeli wpisz trzy czynniki lokalizacji kompleksu sportowego, których ocenę da się wykonać na podstawie załączonego planu.

B.

Nadaj rangę wskazanym na planie lokalizacjom A, B, C, D od najlepszej (1) do najgorszej (4) pod względem każdego z **czterech** wypisanych w tabeli czynników lokalizacji (np. A – 1, B – 2, C – 4, D – 3). Rangi wpisz do tabeli w polach odpowiadających poszczególnym lokalizacjom. Możliwy jest przypadek, w którym dwie lokalizacje są równie dobre – wtedy dana ranga może zostać użyta dwukrotnie (np. A – 1, B – 2, C – 2, D – 3).

| Lp. | Czynnik Lokalizacji | A | B | C | D |
|-----|---|---|---|---|---|
| 1. | dostępność dla mieszkańców miasta komunikacją publiczną | | | | |
| 2. | | | | | |
| 3. | | | | | |
| 4. | | | | | |

Uzasadnij kolejność rang nadanych lokalizacjom A, B, C, D w przypadku każdego z czterech czynników wymienionych w tabeli.

Czynnik lokalizacji 1:.....

.....
.....
.....
.....
.....
.....
.....

Czynnik lokalizacji 2:.....

.....
.....
.....
.....
.....
.....
.....

Czynnik lokalizacji 3:.....

.....
.....
.....
.....
.....
.....
.....

Czynnik lokalizacji 4:.....

.....
.....
.....
.....
.....
.....
.....

Zadanie 2.

Wymień trzy czynniki (inne niż wpisane do tabeli w zadaniu 1), które warto uwzględnić przy lokalizacji kompleksu sportowego, a z powodu braku odpowiednich danych na załączonym planie ich analiza nie jest możliwa. Pierwszy z wymienionych czynników ma mieć charakter przyrodniczy, drugi – społeczno-ekonomiczny, a trzeci – prawny. Dla każdego czynnika uzasadnij, dlaczego ma on znaczenie w lokalizacji inwestycji i w jaki sposób może on wpływać na funkcjonowanie kompleksu sportowego.

Czynnik lokalizacji o charakterze przyrodniczym:

Uzasadnienie:.....

.....

.....

.....

.....

.....

.....

.....

.....

Czynnik lokalizacji o charakterze społeczno-ekonomicznym:

.....

Uzasadnienie:.....

.....

.....

.....

.....

.....

.....

.....

.....

Czynnik lokalizacji o charakterze prawnym:.....

Uzasadnienie:.....

.....

.....

.....

.....

.....

.....

.....

.....

Zadanie 3.

Na podstawie analizy przeprowadzonej w zadaniu 1. zaproponuj najlepszą lokalizację kompleksu sportowego (A, B, C lub D). Hierarchizując czynniki lokalizacji, uzasadnij odpowiedź.

.....

.....

.....

.....

.....

.....

.....

.....

.....

.....

.....

.....

.....

.....

.....

.....

.....

.....

.....

.....

.....

.....

.....

Zadanie 4.

Zakładając, że władze miejskie zdecydowały wybudować kompleks sportowy w zaproponowanym przez Ciebie miejscu, podaj dwie inwestycje komplementarne względem kompleksu, które w pierwszej kolejności należałoby zrealizować. Odpowiedź uzasadnij.

.....

.....

.....

.....

.....

.....

.....

.....

.....

.....

.....

.....

.....

.....

.....

.....

.....

.....

.....

.....

.....

.....

.....














Zadanie 5.

W tabeli podano nazwy regionalnych wyrobów kulinarnych. Do każdego z nich dopasuj nazwę państwa, z którego pochodzi, bądź też jego spożycie jest tam tak powszechne, że może być uważany za potrawę lub napój narodowy. Nazwy państw wybierz z listy poniżej (nazwy niektórych państw należy wpisać więcej niż raz).

| Potrawa (napój) | Państwo | Potrawa (napój) | Państwo |
|-----------------|---------|-------------------|---------|
| Chałwa | | Malaga | |
| Chianti | | Pudding | |
| Gouda (ser) | | Roquefort (ser) | |
| Gulasz | | Sake | |
| Jogurt | | Salami (kielbasa) | |
| Knedliczki | | Tokaj | |
| Kumys | | Tortilla | |
| Kuskus | | Yerba mate | |

Algieria/Maroko, Argentyna/Paragwaj, Bułgaria, Czechy, Francja, Hiszpania, Holandia, Japonia, Meksyk, Mongolia, Turcja, Węgry, Wielka Brytania, Włochy

Legenda

-  Zabudowa mieszkaniowa
-  Tereny przemysłowo-skladowe
-  Tereny leśne i parkowe
-  Zbiorniki wodne
-  Tereny przewidziane pod rozwój budownictwa wielorodzinnego
-  Rzeki
-  Granice miasta
-  Drogi dwuleżniowe
-  Inne drogi główne
-  Pozostałe drogi
-  Linie kolejowe
-  Dworzec autobusowy
-  Proponowane lokalizacje nowego stadionu

