

Zadanie 1.

Uzupełnij opis podróży Młodego Geografa.

Młody Geograf, zainteresowany bogactwem kulturowym świata muzułmańskiego, postanowił wyruszyć w podróż po Bliskim Wschodzie. Swoją wyprawę rozpoczął w – świętym mieście trzech religii: (nazwy religii podaj w kolejności chronologicznej),, Zwiedzając meczet Al-Aqsa, przypomniał sobie, że w początkowym okresie właśnie w kierunku tej świątyni zwracali się muzułmanie w czasie modlitwy. Obecnie modlą się zwróceniem twarzy w kierunku (miasto).

Następnie Młody Geograf wyruszył na wschód, docierając do – miasta uważanego za jedno z najstarszych osiedli ludzkich, którego nazwa wielokrotnie występuje w Biblii. Później przejechał przez most na rzece, by dotrzeć do Jordanii. Kolejnym przystankiem w wyprawie był – stolica tego pustynnego kraju, otoczona przez liczne obozy uchodźców palestyńskich.

Młody Geograf udał się na południowy-zachód i dalej na południe. Jadąc wzdłuż brzegów położonego w depresji (jezioro), a następnie przez półpustynne płaskowyzę, dotarł do – ruin starożytnego miasta wykutego w skałach. Nie zmieniając kierunku, pojechał dalej aż do – jordańskiego portu i kurortu położonego nad zatoką o tej samej nazwie. Po krótkim wypoczynku, Młody Geograf przekroczył granicę z (państwo) i wraz z karawaną udał się w pobliże – świętego miasta islamu, miejsca w którym pochowano proroka Mahometa oraz jego córkę Fatimę. W drodze na południe chciał jeszcze zwiedzić najbardziej czczoną świątynię islamu –, w której wnętrzu znajduje się Czarny Kamień. Przypomniał sobie jednak, że wstęp mają tam jedynie muzułmanie, więc z pobliskiej Dżuddy udał się na rejs jachtem po Morzu, by móc podziwiać piękne rafy koralowe. Płynąc na południowy wschód, przedostał się przez Cieśninę na wody Zatoki W końcu zawinął do portu w, dawnej kolonii brytyjskiej, czego dowodem są liczne fortyfikacje z XIX w.

Kontynuując podróż przez Jemen, Młody Geograf dotarł do ostatniego punktu wyprawy –, stolicy kraju słynącej z zabytkowej i malowniczej zabudowy centrum wpisanego na Światową Listę Dziedzictwa Kulturowego UNESCO. Po kupieniu pamiątek na miejscowym bazarze, udał się na lotnisko, a w samolocie myślami powędrował w kolejną podróż.

Zadanie 2.

A. Rozpoznaj państwa, regiony i/lub grupy etniczne, których dotyczą poniższe opisy.

- a) Niestabilna sytuacja w tym państwie trwała nieprzerwanie od momentu wycofania się Belgów w 1962 r. W 1994 r. doszło tam do krwawego ludobójstwa – w ciągu trzech miesięcy zginęło około 800 tys. osób. Z powodu wojny domowej z kraju uciekło ponad 2 mln osób.

Nazwa państwa (1):

Nazwy dwóch walczących grup etnicznych:,

- b) Państwo o dużej powierzchni, dawne kondominium, w którym konflikty zbrojne o podłożu rasowo-religijnym występowały z różnym natężeniem niemal bez przerwy, powodując ogromne migracje ludności. W 2004 r. prowincje południowe uzyskały częściową autonomię, a w styczniu 2011 r. przeprowadzono referendum decydujące, czy państwo podzielone zostanie na dwie niezależne jednostki polityczne.

Nazwa państwa (2):

Główne bogactwo naturalne państwa:

- c) Wojny w tych państwach, określane diamentowymi konfliktami, toczyły się równolegle i były ze sobą powiązane. W państwie (3), najstarszej republice w Afryce, w 1980 r. doszło do zamachu stanu, a następnie, od 1989 r. – wojny domowej toczącej się o kontrolę nad bogatymi złożami surowców – diamentów, boksytów i rud tytanu. Podobne podłoże miała wojna, która wybuchła w 1991 r. w państwie (4), które jest zachodnim sąsiadem państwa (3). Obie spowodowały w sumie śmierć około 300 tys. osób oraz ucieczkę ponad 500 tys. osób do sąsiednich państw. W 2005 r. wybory w państwie (3) wygrała Ellen Johnson-Sirleaf – pierwsza kobieta-prezydent w Afryce.

Nazwa państwa (3):

Nazwa państwa (4):

B. Na mapie Afryki (strona 5) zaznacz państwa, których dotyczą powyższe opisy, wpisując na ich obszarze odpowiednie cyfry (1-4).

Zadanie 3.

A. Spośród poniższych państw, zamaluj na mapie Afryki:

- a) kolorem czerwonym wyłącznie były posiadłości hiszpańskie
- b) kolorem niebieskim wyłącznie były posiadłości portugalskie
- c) kolorem zielonym wyłącznie były posiadłości brytyjskie

Angola, Gabon, Gwinea Równikowa, Etiopia, Mali, Niger, Nigeria, Uganda

B. Na mapie Afryki nazwami współczesnymi podpisz państwa, które w czasach kolonialnych nosiły nazwę:

Beczuana, Dahomej, Górna Wolta, Rodezja Północna, Somali Francuskie

Zadanie 4.

W tabeli podano nazwy ludów afrykańskich. Obok każdego z nich wpisz nazwę państwa, które zamieszkują. Odpowiedzi wybierz spośród poniższych.

Algieria, Demokratyczna Republika Konga, Etiopia, Madagaskar, Nigeria, Republika Południowej Afryki, Tanzania, Zambia

Uwaga! Każda nazwa państwa może być użyta tylko raz.

Lud	Państwo
Amharowie	
Joruba	
Malgasze	
Masajowie	
Pigmeje	
Tuaregowie	
Zulusi	

Zadanie 5.

Obok każdego zdania zaznacz „X” w kolumnie P, jeśli zdanie jest prawdziwe, lub w kolumnie F, jeśli zdanie jest fałszywe.

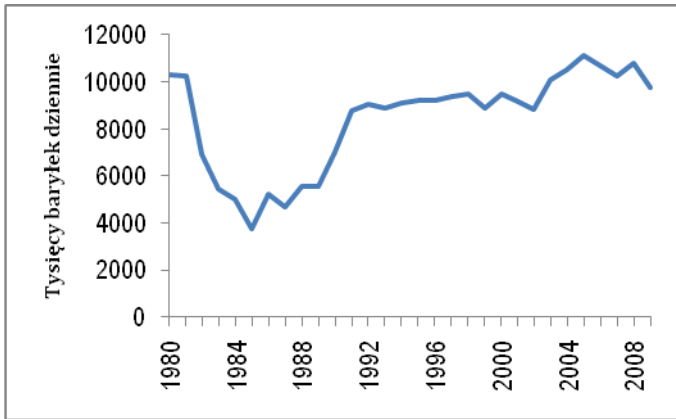
	P	F
OPEC to organizacja zrzeszająca przedsiębiorstwa eksportujące ropę naftową.		
Państwa Bliskiego Wschodu posiadają powyżej 80% udokumentowanych światowych zasobów gazu ziemnego.		
Do największych okręgów przemysłowych w Afryce należą: Shaba, Damodar, Witwatersrand.		
W Asuanie znajduje się jedna z dwóch największych pod względem mocy elektrowni wodnych w Afryce.		

Zadanie 6.

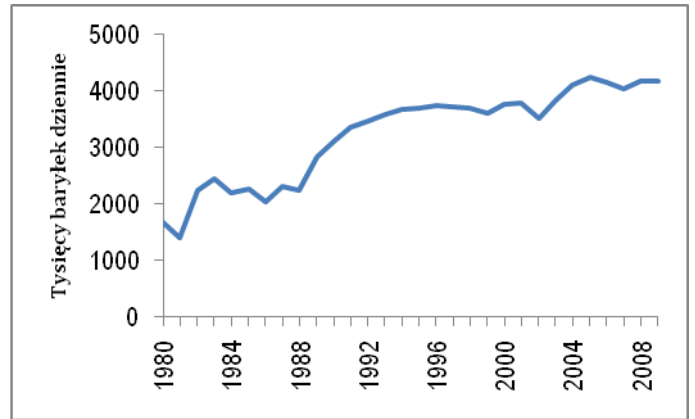
Poniższe wykresy ilustrują wielkość produkcji ropy naftowej w wybranych państwach Afryki i Bliskiego Wschodu. Przeanalizuj je i przyporządkuj im właściwe państwa, wybierając spośród poniższych:

Algieria, Arabia Saudyjska, Gwinea Równikowa, Irak, Iran, Senegal

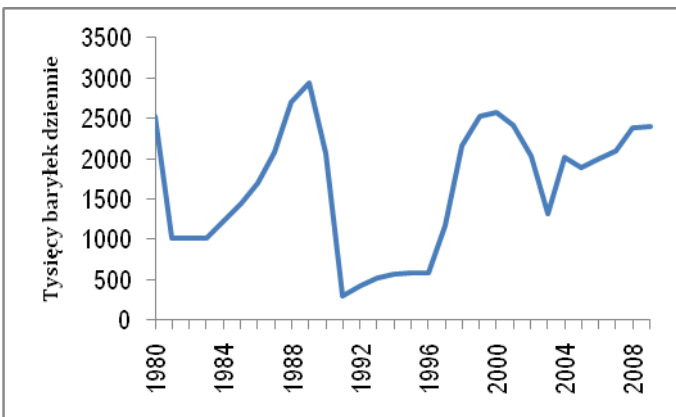
Uwaga! Różne skale pionowe na wykresach.



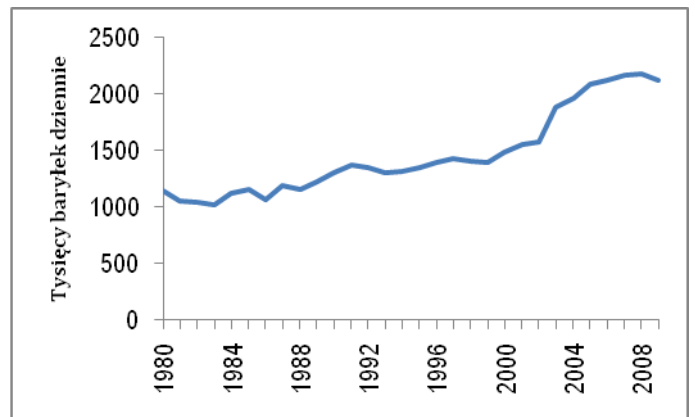
A.



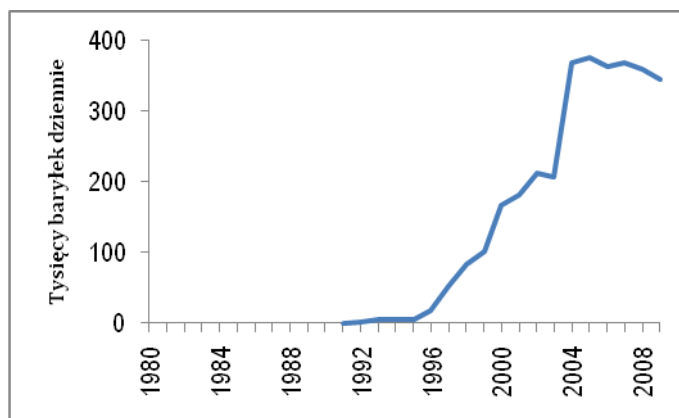
B.



C.



D.



E.

