

## ROZWIĄZANIA

### Zadanie 1.

Młody Geograf, zainteresowany bogactwem kulturowym świata muzułmańskiego, postanowił wyruszyć w podróż po Bliskim Wschodzie. Swoją wyprawę rozpoczął w **Jerozolimie (Jeruzalem, Al-Quds)** – świętym mieście trzech religii: (nazwy religii podaj w kolejności chronologicznej) **judaizm, chrześcijaństwo, islam**. Zwiedzając meczet Al-Aqsa, przypomniał sobie, że w początkowym okresie właśnie w kierunku tej świątyni zwracali się muzułmanie w czasie modlitwy. Obecnie modlą się zwróciwszy twarzą w kierunku **Mekki** (miasto).

Następnie Młody Geograf wyruszył na wschód, docierając do **Jerycha** – miasta uważanego za jedno z najstarszych osiedli ludzkich, którego nazwa wielokrotnie występuje w Biblii. Później przejechał przez most na rzece **Jordan**, by dotrzeć do Jordanii. Kolejnym przystankiem w wyprawie był **Amman** – stolica tego pustynnego kraju, otoczona przez liczne obozy uchodźców palestyńskich.

Młody Geograf udał się na południowy-zachód i dalej na południe. Jadąc wzdłuż brzegów położonego w depresji **Morza Martwego** (jezioro), a następnie przez półpustynne płaskowyże, dotarł do **Petry** – ruin starożytnego miasta wykutego w skałach. Nie zmieniając kierunku, pojechał dalej aż do **Akaby** – jordańskiego portu i kurortu położonego nad zatoką o tej samej nazwie. Po krótkim wypoczynku, Młody Geograf przekroczył granicę z **Arabią Saudyjską** (państwo) i wraz z karawaną udał się w pobliże **Medyny** – świętego miasta islamu, miejsca w którym pochowano proroka Mahometa oraz jego córkę Fatimę. W drodze na południe chciał jeszcze zwiedzić najbardziej czczoną świątynię islamu – **Kaaba (al-Kaaba, Wielki Meczet w Mekce)**, w której wewnątrz znajduje się Czarny Kamień. Przypomniał sobie jednak, że wstęp mają tam jedynie muzułmanie, więc z pobliskiej Dżuddy udał się na rejs jachtem po Morzu **Czerwonym**, by móc podziwiać piękne rafy koralowe. Płynąc na południowy wschód, przedostał się przez Cieśninę **Bab al-Mandab** na wody Zatoki **Adeńskiej**. W końcu zawinął do portu w **Adenie**, dawnej kolonii brytyjskiej, czego dowodem są liczne fortyfikacje z XIX w.

Kontynuując podróż przez Jemen, Młody Geograf dotarł do ostatniego punktu wyprawy – **Sany**, stolicy kraju słynącej z zabytkowej i malowniczej zabudowy centrum wpisanego na Światową Listę Dziedzictwa Kulturowego UNESCO. Po kupieniu pamiątek na miejscowym bazarze, udał się na lotnisko, a w samolocie myślami powędrował w kolejną podróż.

### Zadanie 2.

A. a) **Rwanda (Ruanda)**

**Hutu, Tutsi**

b) **Sudan**

**ropa naftowa**

c) **Liberia**

**Sierra Leone**

B. Patrz mapa (strona 4).

**Zadanie 3.**

A. Patrz mapa (strona 4).

B. Patrz mapa (strona 4).

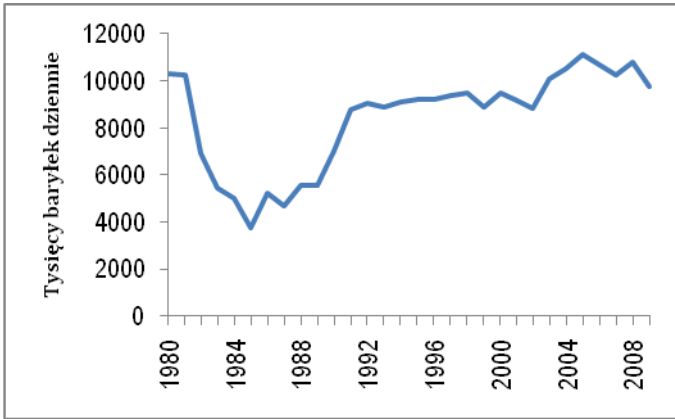
**Zadanie 4.**

Lud	Państwo
Amharowie	<b>Etiopia</b>
Joruba	<b>Nigeria</b>
Malgasze	<b>Madagaskar</b>
Masajowie	<b>Tanzania</b>
Pigmeje	<b>Demokratyczna Republika Konga</b>
Tuaregowie	<b>Algieria</b>
Zulusi	<b>Republika Południowej Afryki</b>

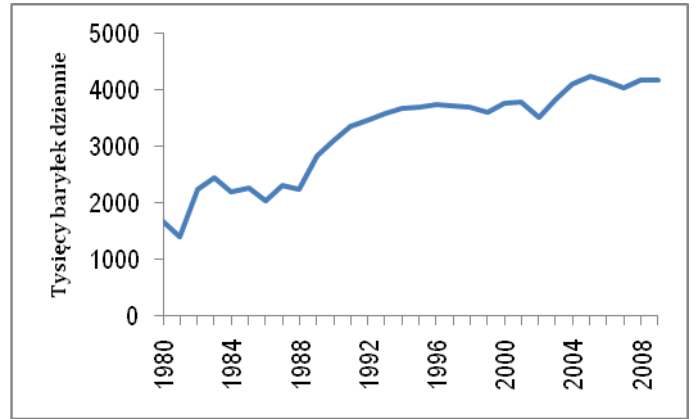
**Zadanie 5.**

	P	F
OPEC to organizacja zrzeszająca przedsiębiorstwa eksportujące ropę naftową.		<b>X</b>
Państwa Bliskiego Wschodu posiadają powyżej 80% udokumentowanych światowych zasobów gazu ziemnego.		<b>X</b>
Do największych okręgów przemysłowych w Afryce należą: Shaba, Damodar, Witwatersrand.		<b>X</b>
W Asuanie znajduje się jedna z dwóch największych pod względem mocy elektrowni wodnych w Afryce.	<b>X</b>	

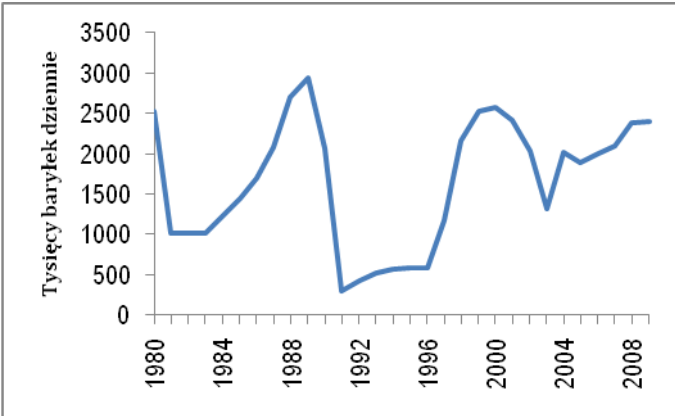
**Zadanie 6.**



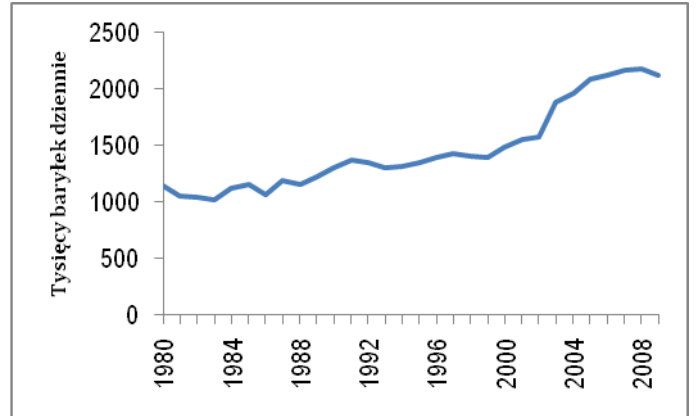
**Arabia Saudyjska**



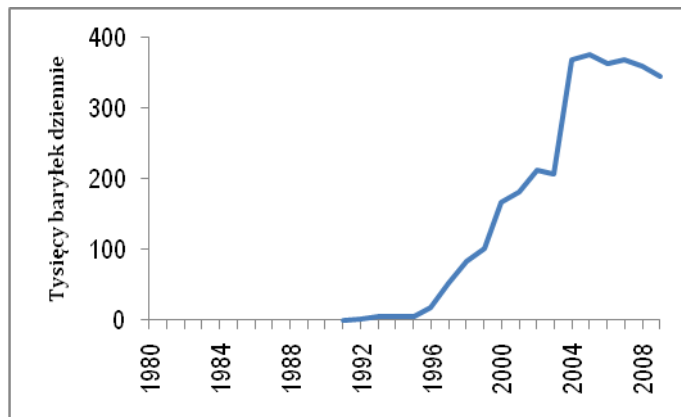
**Iran**



**Irak**



**Algieria**



**Gwinea Równikowa**

