

XXXIII OLIMPIADA GEOGRAFICZNA

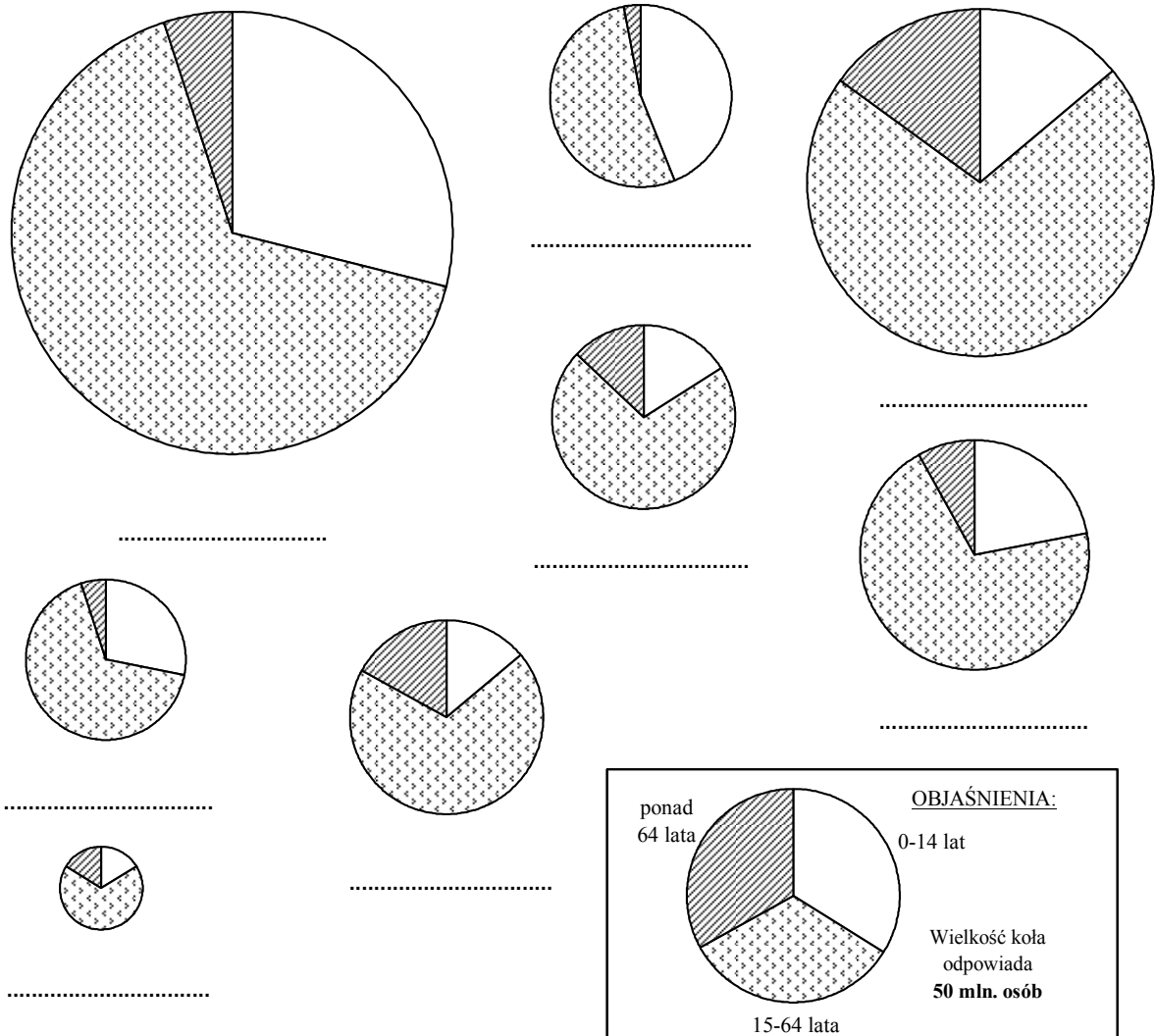
Zawody III stopnia

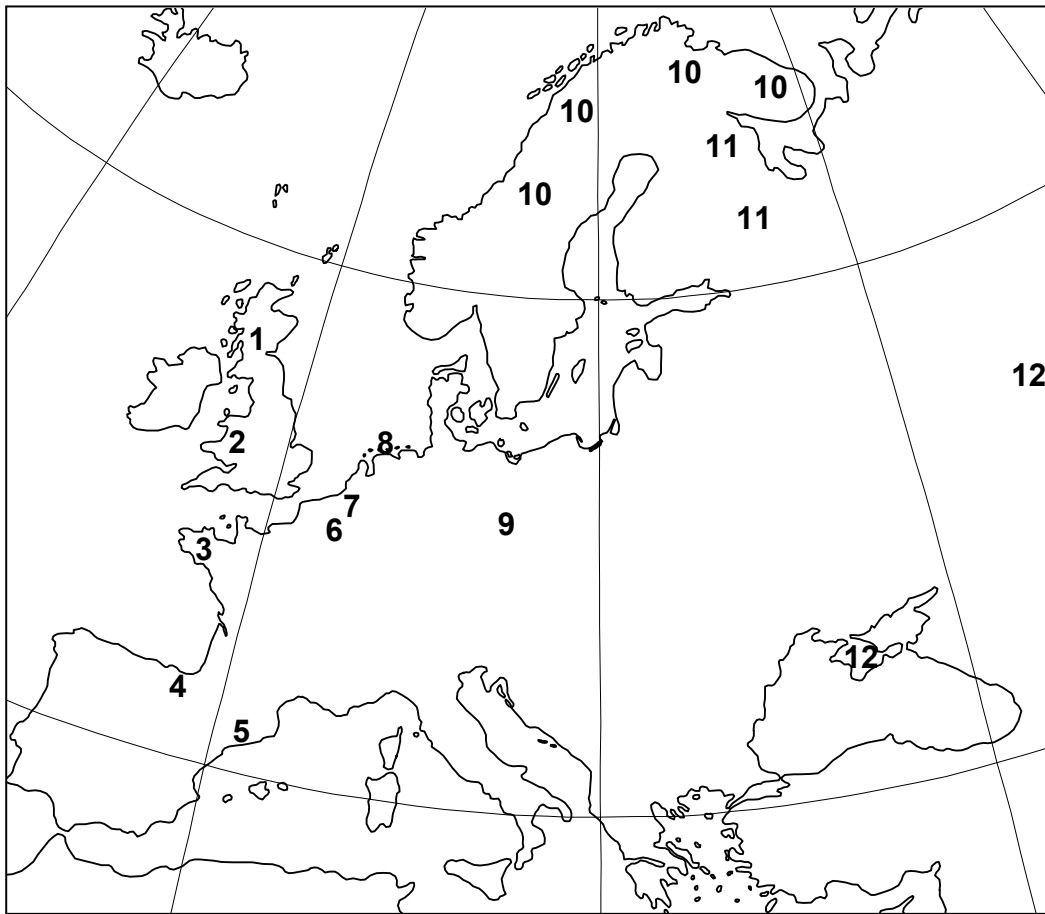
Podejście 3

Zadanie 10.

Na diagramach przedstawiono strukturę wiekową ludności wybranych państw w 2006 r. (powierzchnia kół diagramów jest proporcjonalna do liczby mieszkańców państwa). Rozpoznaj państwa i wpisz ich nazwy pod odpowiednimi diagramami (nazwy państw wybierz spośród podanych poniżej). Następnie dopasuj do poszczególnych państw wysokość stopy przyrostu naturalnego – wybraną z wymienionych – i wpisz tę wartość w nawiasie obok nazwy państwa.

Państwa: *Algieria, Indonezja, Polska, Rosja, Szwajcaria, Tajlandia, Tanzania, Ukraina, Vanuatu*
 Stopa przyrostu naturalnego: -6,0‰, -3,7‰, 0,0‰, 4,3‰, 6,8‰, 12,2‰, 14,1‰, 18,3‰



Zadanie 11.

Na mapie liczbami oznaczono obszary zamieszkałe przez grupy ludności mające silne poczucie odrębności narodowej lub etnicznej, ale nie mające swych własnych państw. Uwzględniono 12 spośród następujących grup ludności: Baskowie, Bretończycy, Czeczeńcy, Flamandowie, Fryzowie, Karelowie, Katalończycy, Komiacy, Korsykanie, Lapończycy, Łużyczanie, Mordwini, Szkoci, Tatarzy Krymscy, Walijczycy, Walonowie

Uzupełnij poniższą legendę mapy, wpisując obok każdej z liczb nazwę odpowiedniej grupy.

- | | |
|-----------|------------|
| 1 – | 7 – |
| 2 – | 8 – |
| 3 – | 9 – |
| 4 – | 10 – |
| 5 – | 11 – |
| 6 – | 12 – |

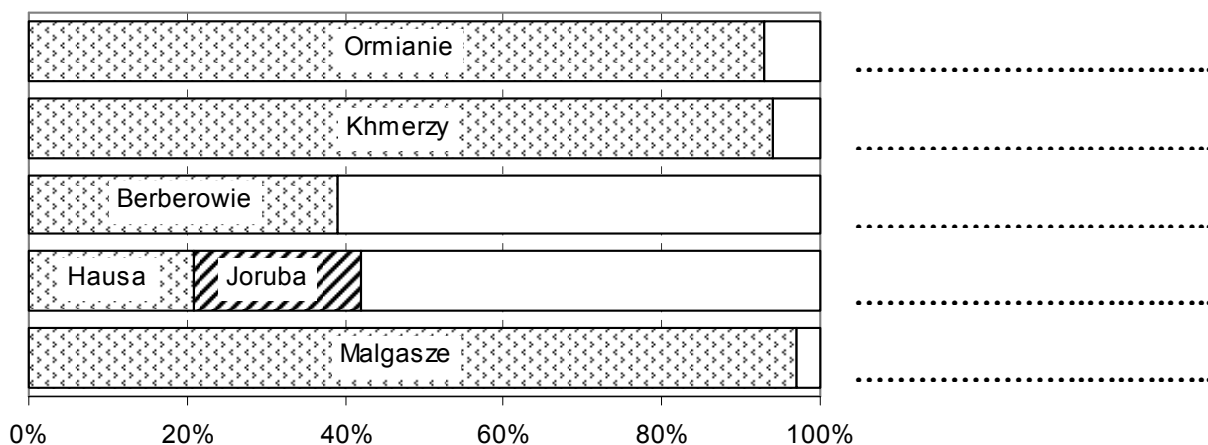
Poniżej przedstawiono wybrane informacje dotyczące sześciu spośród uwzględnionych narodów. Wstaw literę, którą oznaczono informacje o danym narodzie w nawiasie za jego nazwą w legendzie mapy.

- A. Naród uchodzący za jeden z najstarszych w Europie. Posługuje się bardzo specyficznym językiem. Od wieków dąży do suwerenności, czasami metodami terrorystycznymi.
- B. Wielomilionowy naród, wyznający islam, w okresie II wojny światowej na rozkaz Stalina wysiedlony z zamieszkiwanego wcześniej obszaru.

- C. Najlicniejszy (ok. 7 mln. osób) europejski naród nie mający odrębnego państwa. Region, który zamieszkuje, cieszy się bardzo dużą autonomią, uzyskaną na drodze pokojowej i demokratycznej. Region ten jest jednym z najbogatszych w Europie, bardzo chętnie odwiedzany przez turystów.
- D. Naród przez setki lat broniący się przed atakami sąsiada z południa, mający swe państwo do początku XVIII w., a od kilku lat mający dużą autonomię, wyróżniający się charakterystycznymi tradycyjnymi ubraniami męskimi.
- E. Nazwa własna tego narodu to „Saami” (Samowie, Sámi). Liczne grupy stanowią wśród nich zarówno luteranie, jak i osoby wyznające prawosławie, ciągle obecne są jeszcze elementy wierzeń animistycznych.
- F. Naród wywodzi się z plemion celtyckich i germańskich. Do dawnych tradycji nawiązują tu coroczne festiwale folklorystyczne, w czasie których odtwarza się starożytne rytuały druidów i organizuje turnieje poetyckie, których zwycięzcy zdobywają tytuł barda.

Zadanie 12.

Wykres obrazuje udział charakterystycznych grup etnicznych w pięciu państwach. Wypełnij objaśnienia wykresu wpisując nazwy odpowiednich państw.



Zadanie 13.

Obok każdej z par polskich miejscowości wpisz nazwę mniejszości narodowej lub etnicznej, której przedstawiciele tam się skupiają.

- Bohoniki, Kruszyniany
- Krynica, Zdynia
- Jabłonka, Łapsze Niżne
- Olesno, Strzelce Opolskie
- Białystok, Hajnówka
- Puńsk, Sejny

Zadanie 14.

Obok każdej z wymienionych nazw geograficznych wpisz: 1/ nazwę religii (w przypadku chrześcijaństwa, należy podać katolicyzm, prawosławie lub protestantyzm), dzięki której dane miejsce stało się ośrodkiem pielgrzymkowym oraz 2/ państwo, w którym leży obecnie to miejsce.

Miejsce	Religia	Państwo
Athos
Fatima
Grabarka
Mekka
Waranasi (Benares)

Zadanie 15.

Do każdego z podanych obszarów konfliktów dopasuj dwie główne antagonistyczne strony tego konfliktu – wrysuj linie tego samego koloru łączące strony konfliktu z odpowiednim obszarem (do każdego z obszarów przyporządkuj jeden kolor).

Albańczycy	CYPR	Amerykianie
Bośniacy		Baskowie
Chorwaci	IZRAEL	Bungalowie
Czeczeńcy		Chińczycy
Grecy		Egipcjanie
Hindusi	KASZMIR	Flamandowie
Irańczycy		Hutu
Japończycy	KOSOWO	Irlandczycy
Jordańczycy		Pakistańczycy
Katalończycy		Rosjanie
Kazachowie		Serbowie
Kurdowie	RUANDA	Sikhowie
Macedończycy		Słoweńcy
Palestyńczycy	SRI LANKA	Syngalezi
Talibowie		Szkoci
Tamilowie		Tajowie
Tutsi		Tatarzy
Tybetańczycy	TYBET	Turcy
Walijczycy		Żydzi