

# XXXIII OLIMPIADA GEOGRAFICZNA

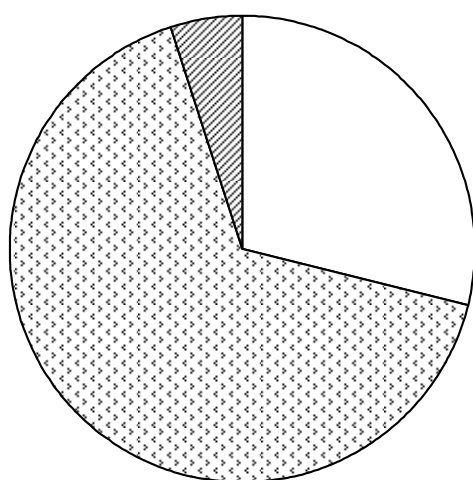
## Zawody III stopnia

### Podejście 3

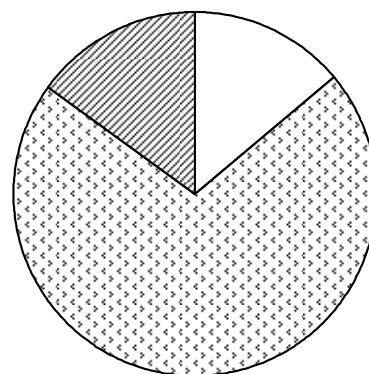
#### Zadanie 10.

Na diagramach przedstawiono strukturę wiekową ludności wybranych państw w 2006 r. (powierzchnia kół diagramów jest proporcjonalna do liczby mieszkańców państwa). Rozpoznaj państwa i wpisz ich nazwy pod odpowiednimi diagramami (nazwy państw wybierz spośród podanych poniżej). Następnie dopasuj do poszczególnych państw wysokość stopy przyrostu naturalnego – wybraną z wymienionych – i wpisz tę wartość w nawiasie obok nazwy państwa.

Państwa: *Algieria, Indonezja, Polska, Rosja, Szwajcaria, Tajlandia, Tanzania, Ukraina, Vanuatu*  
 Stopa przyrostu naturalnego:  $-6,0\%$ ,  $-3,7\%$ ,  $0,0\%$ ,  $4,3\%$ ,  $6,8\%$ ,  $12,2\%$ ,  $14,1\%$ ,  $18,3\%$

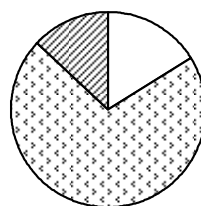


**Tanzania (18,3‰)**

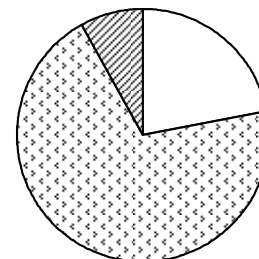


**Rosja (-3,7‰)**

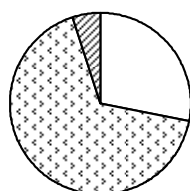
**Indonezja (14,1‰)**



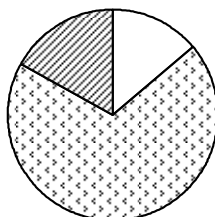
**Polska (0,0‰)**



**Tajlandia (6,8‰)**



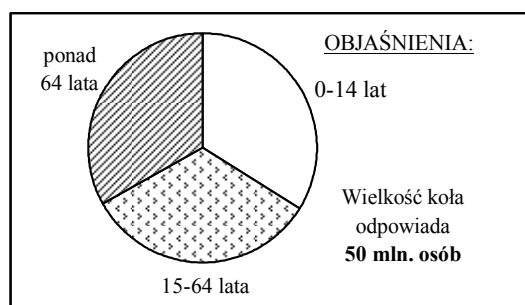
**Algieria (12,2‰)**



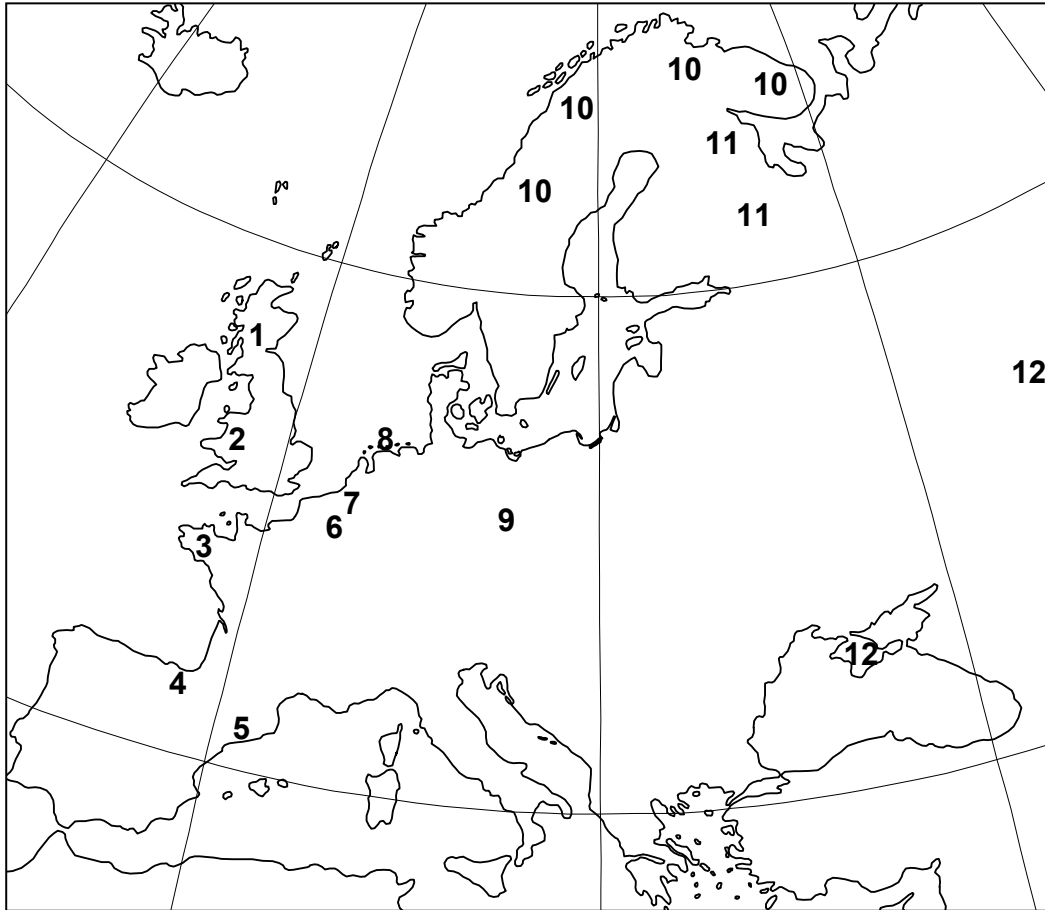
**Ukraina (-6,0‰)**



**Szwajcaria (4,3‰)**



## Zadanie 11.



Na mapie liczbami oznaczono obszary zamieszkałe przez grupy ludności mające silne poczucie odrębności narodowej lub etnicznej, ale nie mające swych własnych państw. Uwzględniono 12 spośród następujących grup ludności: Baskowie, Bretończycy, Czecheńcy, Flamandowie, Fryzowie, Karelowie, Katalończycy, Komiacy, Korsykanie, Lapończycy, Łużyczanie, Mordwini, Szkoci, Tatarzy Krymscy, Walijczycy, Walonowie

Uzupełnij poniższą legendę mapy, wpisując obok każdej z liczb nazwę odpowiedniej grupy.

1 – **Szkoci (D)**

7 – **Flamandowie**

2 – **Walijczycy (F)**

8 – **Fryzowie**

3 – **Bretończycy**

9 – **Łużyczanie**

4 – **Baskowie (A)**

10 – **Lapończycy (E)**

5 – **Katalończycy (C)**

11 – **Karelowie**

6 – **Walonowie**

12 – **Tatarzy Krymscy (B)**

Poniżej przedstawiono wybrane informacje dotyczące sześciu spośród uwzględnionych narodów. Wstaw literę, którą oznaczono informacje o danym narodzie w nawiasie za jego nazwą w legendzie mapy.

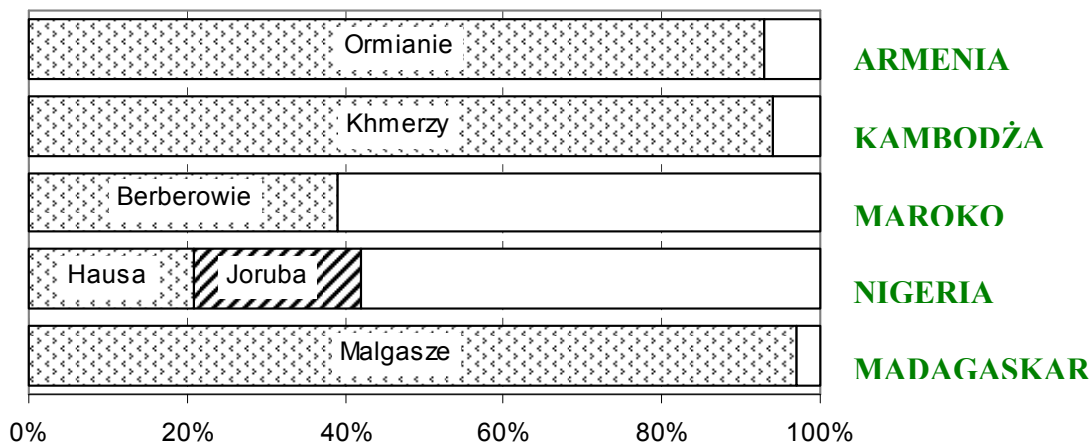
A. Naród uchodzący za jeden z najstarszych w Europie. Posługuje się bardzo specyficznym językiem. Od wieków dąży do suwerenności, czasami metodami terrorystycznymi.

B. Wielomilionowy naród, wyznający islam, w okresie II wojny światowej na rozkaz Stalina wysiedlony z zamieszkiwanego wcześniej obszaru.

- C. Najlicniejszy (ok. 7 mln. osób) europejski naród nie mający odrębnego państwa. Region, który zamieszkuje, cieszy się bardzo dużą autonomią, uzyskaną na drodze pokojowej i demokratycznej. Region ten jest jednym z najbogatszych w Europie, bardzo chętnie odwiedzany przez turystów.
- D. Naród przez setki lat broniący się przed atakami sąsiada z południa, mający swe państwo do początku XVIII w., a od kilku lat mający dużą autonomię, wyróżniający się charakterystycznymi tradycyjnymi ubraniami męskimi.
- E. Nazwa własna tego narodu to „Saami” (Samowie, Sámi). Liczne grupy stanowią wśród nich zarówno luteranie, jak i osoby wyznające prawosławie, ciągle obecne są jeszcze elementy wierzeń animistycznych.
- F. Naród wywodzi się z plemion celtyckich i germańskich. Do dawnych tradycji nawiązują tu coroczne festiwale folklorystyczne, w czasie których odtwarza się starożytne rytuały druidów i organizuje turnieje poetyckie, których zwycięzcy zdobywają tytuł barda.

### Zadanie 12.

Wykres obrazuje udział charakterystycznych grup etnicznych w pięciu państwach. Wypełnij objaśnienia wykresu wpisując nazwy odpowiednich państw.



### Zadanie 13.

Obok każdej z par polskich miejscowości wpisz nazwę mniejszości narodowej lub etnicznej, której przedstawiciele tam się skupiają.

Bohoniki, Kruszyniany	<b>Tatarzy</b>
Krynica, Zdynia	<b>Łemkowie</b>
Jabłonka, Łapsze Niżne	<b>Słowacy, Orawianie</b>
Olesno, Strzelce Opolskie	<b>Niemcy</b>
Białystok, Hajnówka	<b>Białorusini</b>
Puńsk, Sejny	<b>Litwini</b>

Zadanie 14.

Obok każdej z wymienionych nazw geograficznych wpisz: 1/ nazwę religii (w przypadku chrześcijaństwa, należy podać katolicyzm, prawosławie lub protestantyzm), dzięki której dane miejsce stało się ośrodkiem pielgrzymkowym oraz 2/ państwo, w którym leży obecnie to miejsce.

Miejsce	Religia	Państwo
Athos	<b>prawosławie</b>	<b>Grecja</b>
Fatima	<b>katolicyzm</b>	<b>Portugalia</b>
Grabarka	<b>prawosławie</b>	<b>Polska</b>
Mekka	<b>islam</b>	<b>Arabia Saudyjska</b>
Waranasi (Benares)	<b>hinduizm</b>	<b>Indie</b>

Zadanie 15.

Do każdego z podanych obszarów konfliktów dopasuj dwie główne antagonistyczne strony tego konfliktu – wrysuj linie tego samego koloru łączące strony konfliktu z odpowiednim obszarem (do każdego z obszarów przyporządkuj jeden kolor).

